



Привіт, математика!



приклеїти тут

EDUC.COM.UA

приклеїти тут

Обчисли вирази:

$2 + 3 + 4 = \square \square$

$7 - 2 + 3 = \square \square$

$6 + 4 - 2 = \square \square$

$10 - 1 - 1 = \square \square$

$5 + 2 - 4 = \square \square$

$7 - 5 + 7 = \square \square$



EDUC.COM.UA

приклеїти тут

"Віднови" вирази:

$7 - 3 = \square$

$\square + 3 = 5$

$6 - \square = 3$

$10 - 5 = \square$

$8 - \square = 7$

$\square - 8 = 1$



EDUC.COM.UA

приклеїти тут



приклеїти тут

Порівняй:

	<input type="checkbox"/>		
	<input type="checkbox"/>		
	<input type="checkbox"/>		
	<input type="checkbox"/>		

приклеїти тут

Склади і розв'яжи задачу:

Купили - 8 

Порізали - 2 


Залишилося - ?


()

Відповідь: _____

приклеїти тут

Склади і розв'яжи задачу:

 - 6

 - ?, на 3 більше

()

Відповідь: _____

приклеїти тут

Домалюй кружечки і
впиши пропущене число:



$$3 + \square + 5 = 10$$




$$\square + 4 + 2 = 10$$

приклеїти тут



приклеїти тут

Проведи Міккі
до Сніговика:



приклеїти тут

